



Flash maths

91 et 92

■ La grenouille saute de 5 en 5.

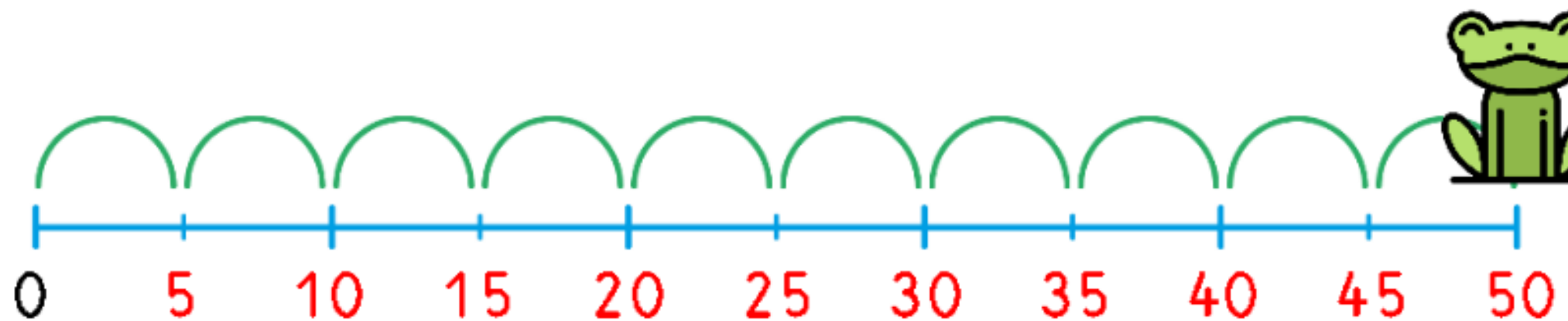


Trouve les autres nombres sur ton ardoise.

Réponse

100%

- La grenouille saute de 5 en 5.





Quand je fais + 5 :

Soit j'ajoute 5 unités :

$$10 + 5 = 15$$

Soit je complète à la dizaine suivante :

$$15 + 5 = 20$$



Entraîne-toi sur ton ardoise :

$20 + 5 =$

$15 + 5 =$

$60 + 5 =$

$35 + 5 =$

$40 + 5 =$

$75 + 5 =$

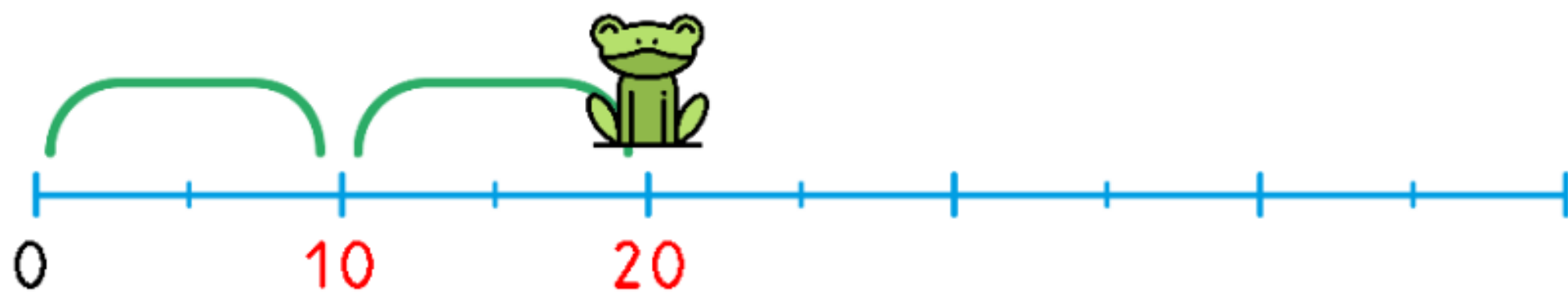
$80 + 5 =$

$55 + 5 =$

$50 + 5 =$

$55 + 5 =$

■ La grenouille saute de 10 en 10.

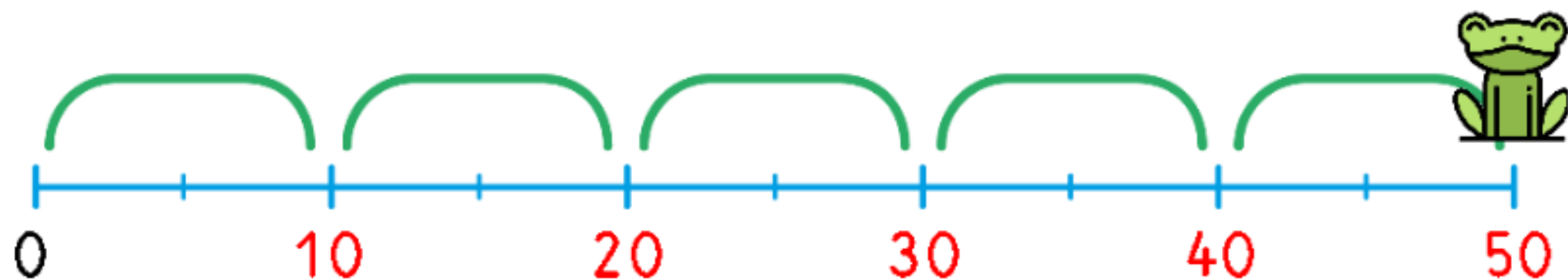


**Trouve les autres nombres
sur ton ardoise.**

Réponse

- La grenouille saute de 10 en 10.

FIGURE 32





Quand je fais + 10 :

J'ajoute juste un dizaine au nombre de départ :

$$30 + 10 = 40$$

Si le nombre a des unités, le chiffre des unités ne change pas :

$$34 + 10 = 44$$



1 Entraîne-toi sur ton ardoise :

$20 + 10 =$

$24 + 10 =$

$60 + 10 =$

$48 + 10 =$

$40 + 10 =$

$51 + 10 =$

$80 + 10 =$

$65 + 10 =$

$50 + 10 =$

$86 + 10 =$