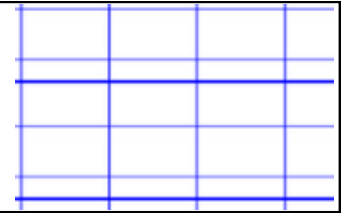




Mathématiques

L'addition de 2 nombres (5)



$25 + 7 =$

	d	u
+	.	.
	.	.
	.	.

$35 + 9 =$

	d	u
+	.	.
	.	.
	.	.

$48 + 8 =$

	d	u
+	.	.
	.	.
	.	.

$34 + 27 =$

	d	u
+	.	.
	.	.
	.	.

$27 + 26 =$

	d	u
+	.	.
	.	.
	.	.

$35 + 36 =$

	d	u
+	.	.
	.	.
	.	.

$24 + 35 =$

	d	u
+	.	.
	.	.
	.	.

$34 + 36 =$

	d	u
+	.	.
	.	.
	.	.

$24 + 37 =$

	d	u
+	.	.
	.	.
	.	.

$62 + 19 =$

	d	u
+	.	.
	.	.
	.	.

$33 + 29 =$

	d	u
+	.	.
	.	.
	.	.

$46 + 25 =$

	d	u
+	.	.
	.	.
	.	.

J'achète :



19 €




36 €

Je dois payer :

	d	u
+	.	.
	.	.
	.	.

Je donne :



Dans les portemonnaies, je dessine les pièces et les billets nécessaires pour l'achat.

J'achète :



37 €




18 €

Je dois payer :

	d	u
+	.	.
	.	.
	.	.

Je donne :



J'achète :

37 €



25 €

Je dois payer :

	d	u
+	.	.
	.	.
	.	.

Je donne :

