

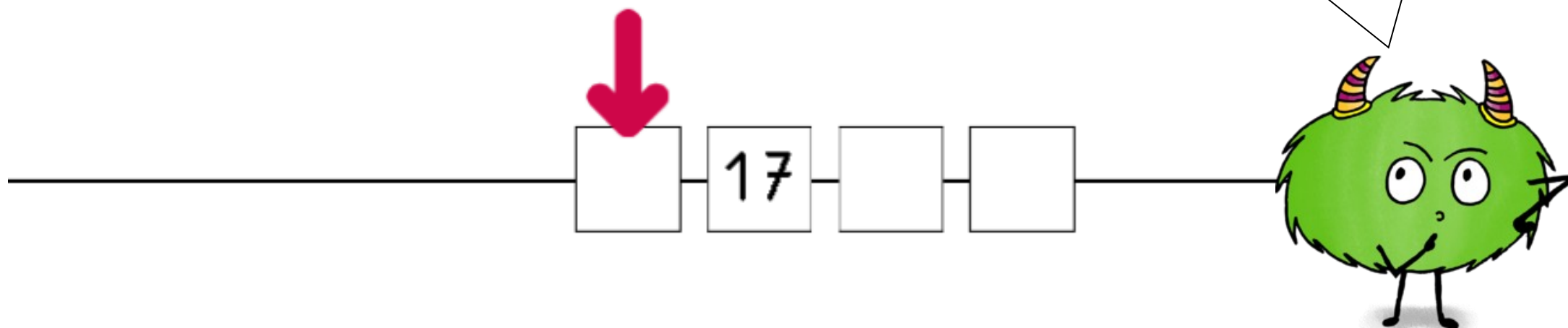


Flash maths

**La suite
numérique**

- Écris sur ton ardoise le nombre qu'indique la flèche sur la file.

Ecris ton résultat en chiffres et en lettres (mémo 5 si tu as besoin de t'aider !)

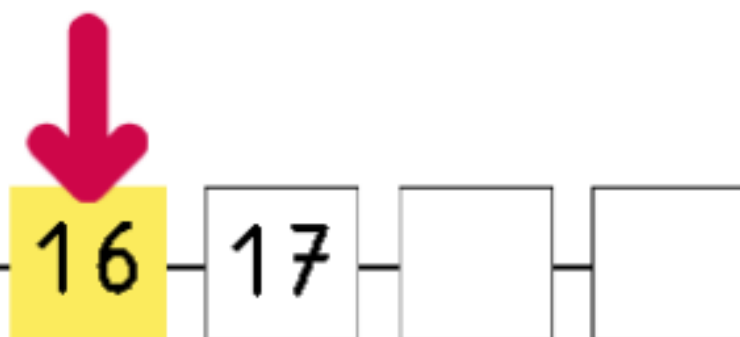


Il s'agit de notre jeu de pince à linge. Quel nombre accroches-tu à l'endroit indiqué ?

Réponse

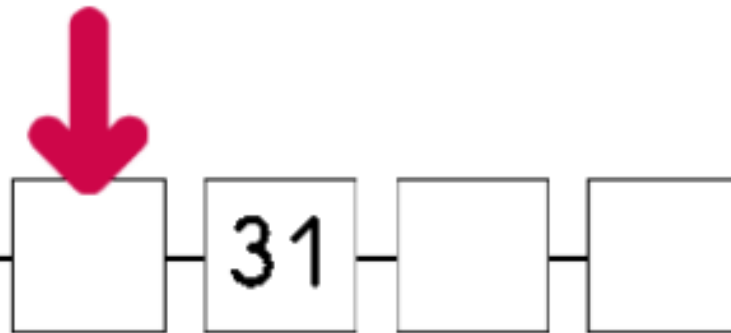
Flash

- Écris sur ton ardoise le nombre qu'indique la flèche sur la file.



- Écris sur ton ardoise le nombre qu'indique la flèche sur la file.

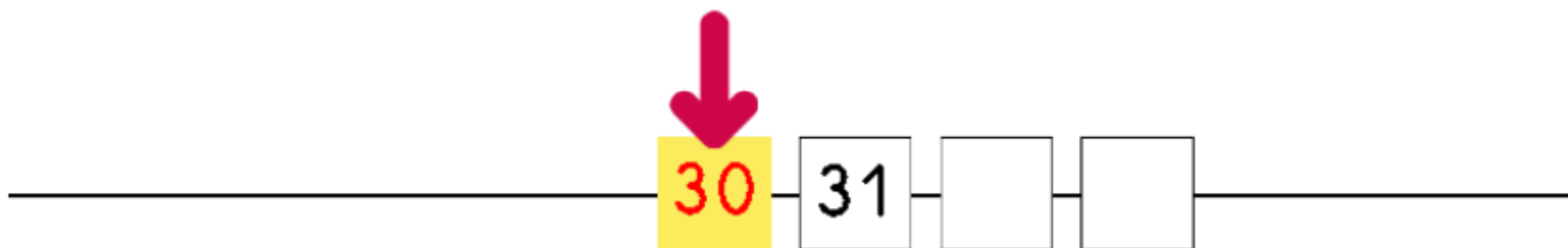
Ecris ton résultat en chiffres et en lettres (mémo 5 si tu as besoin de t'aider !)



Réponse

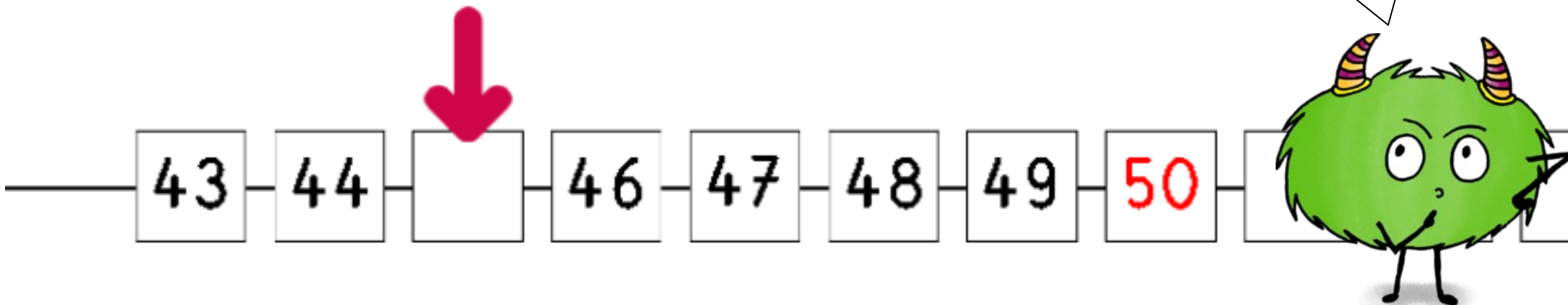
- Écris sur ton ardoise le nombre qu'indique la flèche sur la file.

Flas



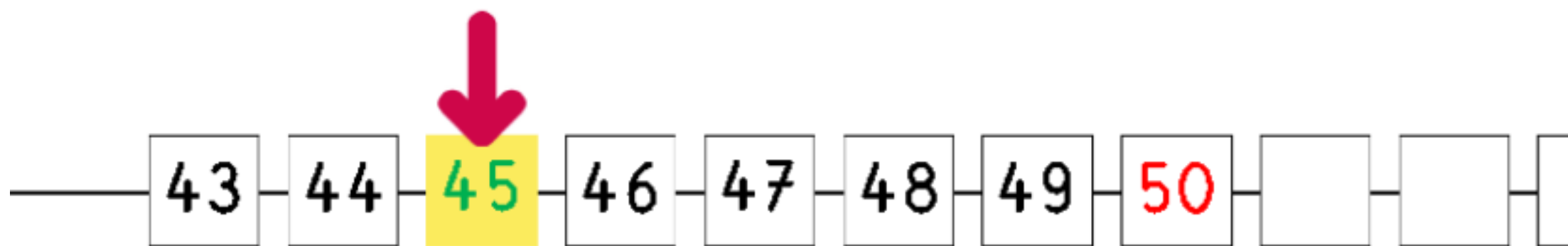
- Écris sur ton ardoise le nombre qu'indique la flèche sur la file.

Ecris ton résultat en chiffres et en lettres (mémo 5 si tu as besoin de t'aider !)



Réponse

- Écris sur ton ardoise le nombre qu'indique la flèche sur la file.



Ecris ton résultat en chiffres et en lettres (mémorise 5 si tu as besoin de t'aider !)

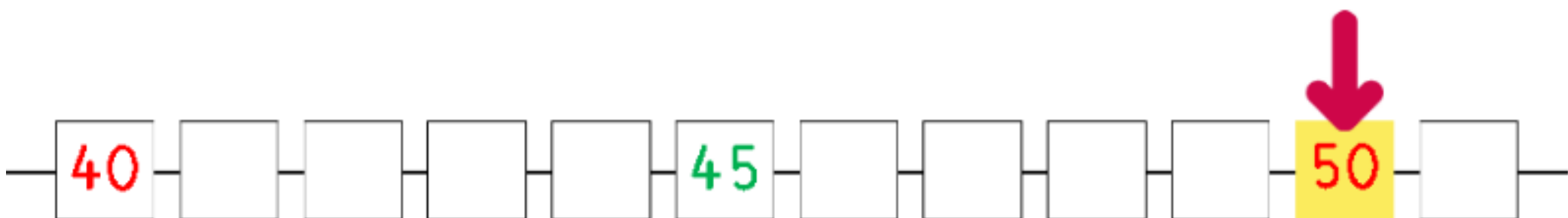
■ Écris sur ton ardoise le nombre qu'indique la flèche sur la file.



Réponse

Flash 108 ✕

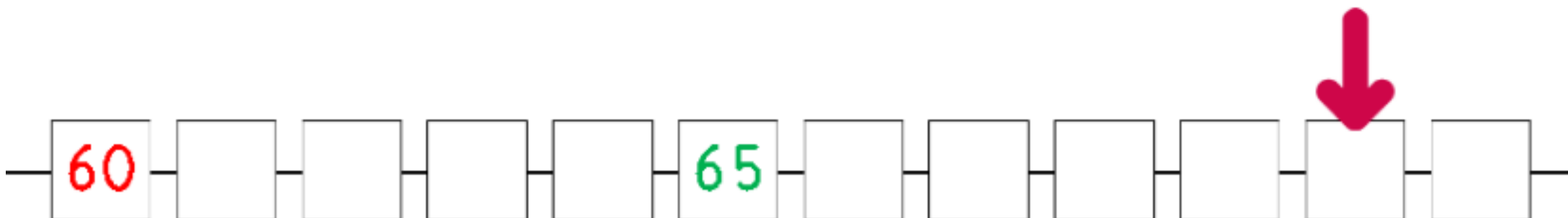
- Écris sur ton ardoise le nombre qu'indique la flèche sur la file.



Ecris ton résultat en chiffres et en lettres (mémo 5 si tu as besoin de t'aider !)

■ Écris sur ton ardoise le nombre qu'indique la flèche sur la file.

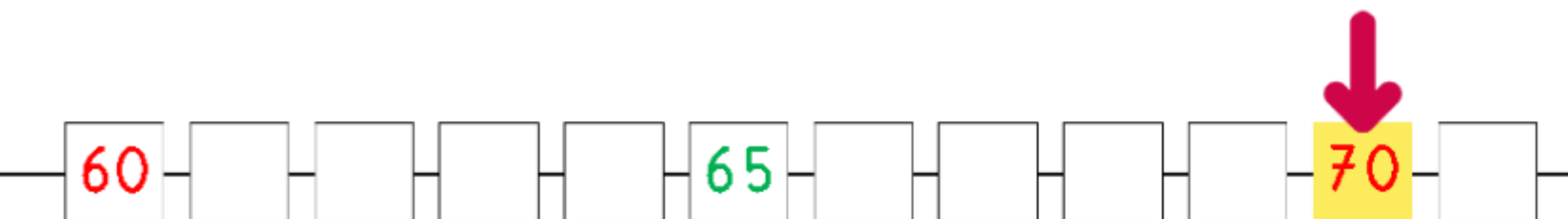
Fresh 109 x



Réponse

Flash 109 x

- Écris sur ton ardoise le nombre qu'indique la flèche sur la file.



Pour poursuivre cette
séance de révision, va
sur le blog réaliser le
quiz 13 puis fais ta
fiche d'exercices.
Bon courage !

