









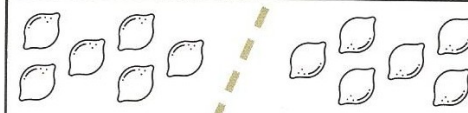




Mathématiques

Les moitiés










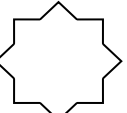





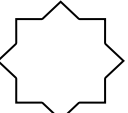


Complète les tableaux :

 La moitié de 2, c'est 1.
 La moitié de 4, c'est
 La moitié de 6, c'est
 La moitié de 8, c'est
 La moitié de 10, c'est

 La moitié de 12, c'est
 La moitié de 14, c'est
 La moitié de 16, c'est
 La moitié de 18, c'est
 La moitié de 20, c'est

A chacun sa moitié ! Complète le plus rapidement possible !


 → 	 → 	 → 	 → 
 → 	 → 	 → 	 → 

Relie chaque étiquette à sa moitié

16	14	12	20	8	6	10	4	18
----	----	----	----	---	---	----	---	----

7	8	4	6	10	5	2	9	3
---	---	---	---	----	---	---	---	---

Trace une ligne pour avoir la même somme d'argent de chaque côté :



Pour préparer un anniversaire, maman a déjà fait 4 gâteaux mais elle a peur de ne pas en avoir assez. Elle voudrait en faire encore deux. Complète le tableau :



	Pour préparer 4 gâteaux, il te faut...	Pour en faire 2, il me faut le double d'ingrédients donc...
yaourt	4	
farine	12	
sucre	8	
levure	4	
oeufs	12	

Complète les bulles de chaque personnage :

