


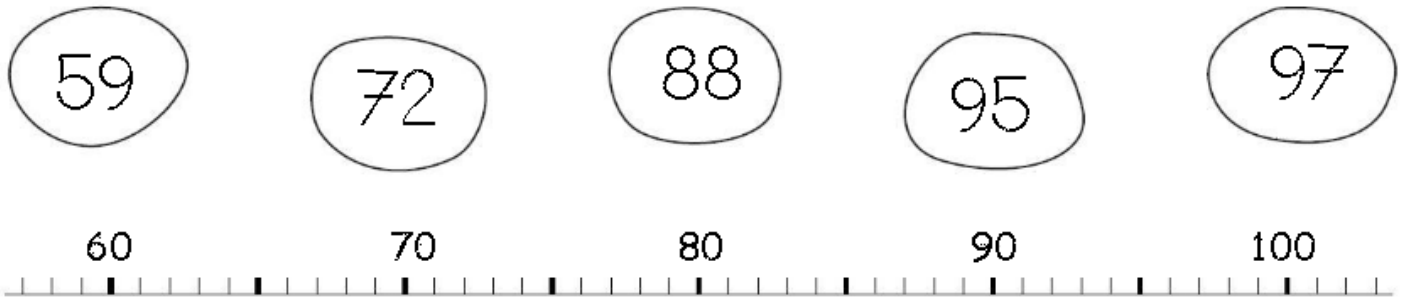


Mathématiques

Comparaison des nombres et problèmes



Relie les nombres à leur place sur la droite graduée :



Complète par le signe < (plus petit que), > (plus grand que) ou = :

65 ____ 95

82 ____ 62

19 ____ 91

90 ____ 9

6 ____ 97

98 ____ 89

92 ____ 9d 3u

91 ____ 9d

94 ____ 9d 4u

69 ____ 7d 9u

94 ____ 4d 9u

90 ____ 9d

92 ____ $90 + 2$

96 ____ $90 + 2$

98 ____ $80 + 8$

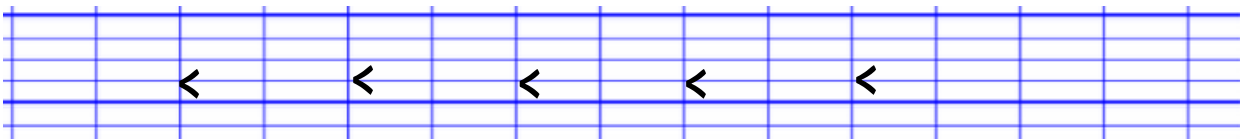
79 ____ $90 + 7$

96 ____ $50 + 20 + 6$


98 ____ $50 + 40 + 8$

Classe les nombres de ces listes du plus petit au plus grand :


81 - 94 - 73 - 59 - 40 - 67



49 - 74 - 98 - 88 - 79 - 89



76 - 99 - 79 - 95 - 90 - 80 - 78



Attention à l'écriture des nombres !





Côté problèmes ! (A réaliser après le document de découverte orale)
Résous les problèmes suivants en choisissant la bonne opération :

Zoé a 15 jetons. Arthur en a 4 de moins que Zoé. Combien Arthur a-t-il de jetons ?

Zoé

Arthur

Le calcul :

La phrase-réponse :

Afin de pouvoir utiliser des nombres plus grands, nous représenterons chacun d'eux en dizaines et unités.

Zoé a 32 sucettes. Arthur en a 11 de plus que Zoé. Combien Arthur a-t-il de sucettes ?

Zoé

Arthur

Le calcul :

La phrase-réponse :

Dans la tirelire de Tom, il y a 40 €. Il y a 15 euros de plus dans celle de Julie. Combien Julie a-t-elle d'argent ?

Tom

Julie

Le calcul :

La phrase-réponse :

Léa pèse 38 kilos. Son frère Luc pèse 13 kilos de moins. Combien pèse Luc ?

Léa

Luc

Le calcul :

La phrase-réponse :