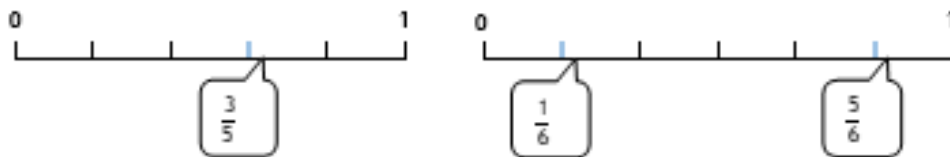


- Donner un sens à une fraction.
- Utiliser des fractions plus grandes que l'unité.

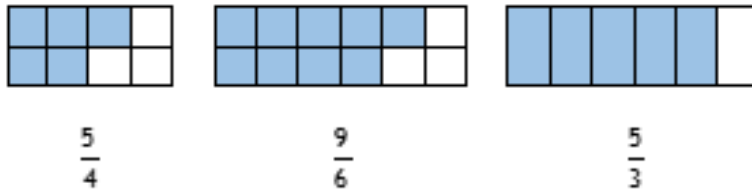
Corrigé

## Les fractions

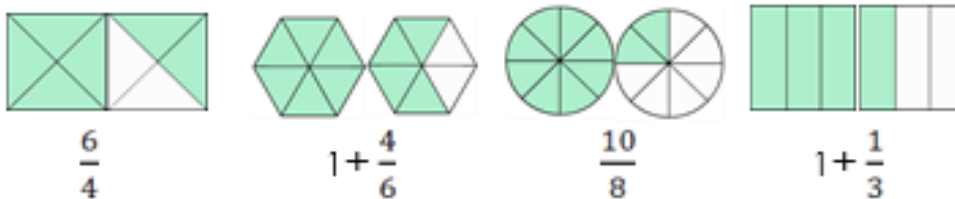
- 1 Ecris la fraction qui correspond aux points sur la droite.



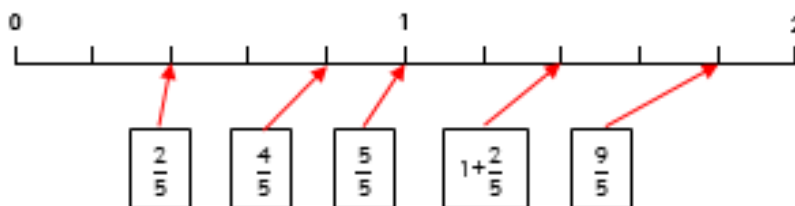
- 2 Ecris la fraction qui correspond à la partie coloriée.



- 3 Colorie la partie qui correspond à la fraction.



- 4 Relie chaque fraction à la graduation correspondante.



- 5 Ecris la fraction qui correspond aux points sur la droite selon l'exemple.

